



Arbeitsauftrag

Notiere die richtigen Antworten aus dem Quizz

Ordne die 5- TOP Industriebranchen nach dem Umsatz

☐

Metallerzeugnisse

☐

Gummi und Kunststoffe

☐

Maschinenbau

☐

Chemie

☐

Fahrzeugbau

Ordne die 5- TOP Industriebranchen nach der Zahl der Beschäftigten

☐

Metallerzeugnisse

☐

Gummi und Kunststoffe

☐

Maschinenbau

☐

Chemie

☐

Fahrzeugbau

Wo befinden sich die Industrieschwerpunkte? Ordne zu.

Getränkeindustrie

Westpfalz

Schuhindustrie

Eifel

Schmuckindustrie

Westerwald

Glas- und Keramikindustrie

Idar-Oberstein

Wie hoch ist der Anteil der Industrie an der Bruttowertschöpfung in Rheinland-Pfalz?

15%

☐

25%

☐

35%

☐

45%

☐

Wie viele Industriebetriebe gibt es in Rheinland-Pfalz?

489

☐

1698

☐

2202

☐

3756

☐

Wie viele Menschen arbeiten in Industriebetrieben mit 20 und mehr Beschäftigten in Rheinland-Pfalz?

142.000

☐

186.000

☐

212.000

☐

289.000

☐

Fachkräfte sind in der Industrie gefragt. Wie hoch ist der Anteil der Beschäftigten in der rheinland-pfälzischen Industrie mit einem anerkannten Berufsabschluss?

44%

☐

52%

☐

60%

☐

66%

☐

70%

☐

Wie hoch ist der Anteil der Waren der rheinland-pfälzischen Industrie, die ins Ausland exportiert werden (Exportquote?)

29%

☐

47%

☐

53%

☐

68%

☐

Wo befinden sich die drei größten Industriezentren in Rheinland-Pfalz?

☐

Ludwigshafen, Kaiserslautern, Trier

☐

Ludwigshafen, Germersheim, Koblenz

☐

Neustadt, Bingen, Koblenz

☐

Ludwigshafen, Trier, Mainz

Welche drei Industrieunternehmen sind die größten Arbeitgeber in Rheinland-Pfalz?

☐

BASF SE Ludwigshafen

☐

Tenneco Edenkoben

☐

Lohmann & Rauscher GmbH & Co. KG Neuwied

☐

Schott AG Mainz

☐

Meffert AG Bad Kreuznach

☐

Opel Kaiserslautern

☐

Böhringer Pharma GmbH & Co. KG

Innovationen sind der Schlüssel für den wirtschaftlichen Erfolg in der Zukunft. Wie viele Patente kamen 2014 aus Rheinland-Pfalz?

521

☐

802

☐

1031

☐

1233

☐

2010

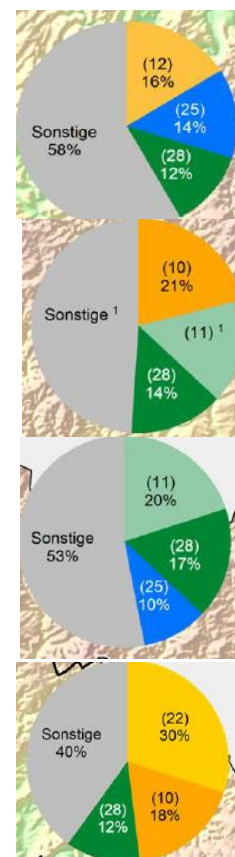
☐

Welche Industriebranchen sind die wichtigsten in der Region „Eifel“? Ordne zu.



Die wichtigsten Branchen der Planungsregion

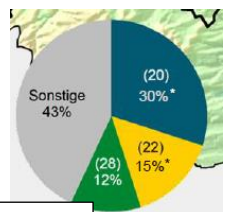
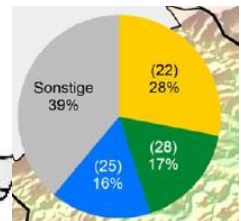
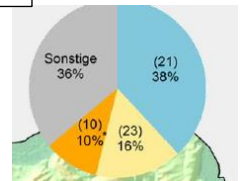
- WZ 10 Nahrungsmittel
- WZ 22 Gummi und Kunststoff
- WZ 28 Maschinenbau
- WZ 25 Metallserzeugnisse
- WZ 11 Getränke
- WZ 12 Tabak
- Sonstige



Welche Industriebranchen sind die wichtigsten in der Region „Rheinessen-Nahe“? Ordne zu.

Die wichtigsten Branchen der Planungsregion

- WZ 21 Pharma
- WZ 22 Gummi und Kunststoff
- WZ 20 Chemie
- WZ 25 Metallerzeugnisse
- WZ 28 Maschinenbau
- WZ 23 Glas- und Keramik
- WZ 10 Nahrungsmittel
- WZ 32 Sonstige Waren
- Sonstige

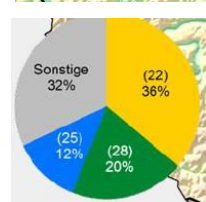
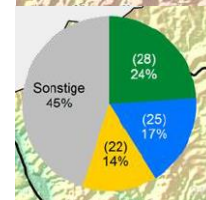
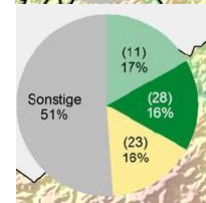
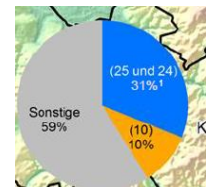
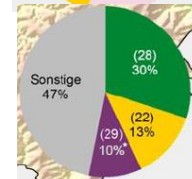
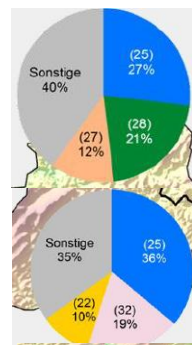


Welche Industriebranchen sind die wichtigsten in der Region „Mittelrhein-Westerwald“? Ordne zu.

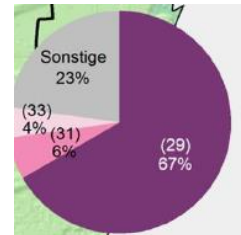
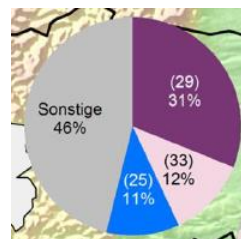
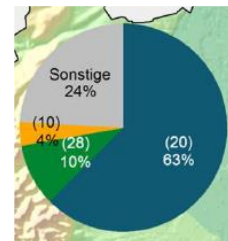


Die wichtigsten Branchen der Planungsregion

- WZ 28 Maschinenbau
- WZ 25 Metallerzeugnisse
- WZ 22 Gummi und Kunststoff
- WZ 23 Glas- und Keramik
- WZ 29 Fahrzeugbau
- WZ 10 Nahrungsmittel
- WZ 27 Elektrische Ausrüstungen
- WZ 11 Getränke
- Sonstige



Welche Industriebranchen sind die wichtigsten in der Region „Rheinpfalz“? Ordne zu.



Welche Industriebranchen sind die wichtigsten in der Region „Westpfalz“? Ordne zu.

